

## Problemas

María da una fiesta. Han ido 17 personas disfrazadas y 8 sin disfraz. ¿Cuántas personas hay en la fiesta contando a María?

s/

R/

Alejandra tiene 50 cromos pegados en su álbum, pero le faltan 5 para completarlo. ¿Cuántos cromos tendrá el álbum?

s/

R/

Adriana tiene 26 hojas rosas, 13 naranjas y 18 verdes. ¿Cuántas figuritas de *origami* puede hacer?

s/

R/

**NÚMEROS HASTA 99.**  
**Sumas, sumas llevando y restas:**

101

$\begin{array}{r} 29 \\ +26 \\ \hline \end{array}$	$\begin{array}{r} 34 \\ +18 \\ \hline \end{array}$	$\begin{array}{r} 26 \\ +48 \\ \hline \end{array}$	$\begin{array}{r} 26 \\ +47 \\ \hline \end{array}$	$\begin{array}{r} 25 \\ +38 \\ \hline \end{array}$	$\begin{array}{r} 35 \\ +25 \\ \hline \end{array}$	$\begin{array}{r} 78 \\ +18 \\ \hline \end{array}$	$\begin{array}{r} 45 \\ +39 \\ \hline \end{array}$	$\begin{array}{r} 29 \\ +29 \\ \hline \end{array}$
--	--	--	--	--	--	--	--	--

$\begin{array}{r} 29 \\ -26 \\ \hline \end{array}$	$\begin{array}{r} 38 \\ -17 \\ \hline \end{array}$	$\begin{array}{r} 48 \\ -26 \\ \hline \end{array}$	$\begin{array}{r} 47 \\ -26 \\ \hline \end{array}$	$\begin{array}{r} 38 \\ -25 \\ \hline \end{array}$	$\begin{array}{r} 35 \\ -25 \\ \hline \end{array}$	$\begin{array}{r} 78 \\ -18 \\ \hline \end{array}$	$\begin{array}{r} 49 \\ -35 \\ \hline \end{array}$	$\begin{array}{r} 29 \\ -29 \\ \hline \end{array}$
--	--	--	--	--	--	--	--	--

Sofía tiene una residencia canina. Tiene 35 perros y ya han dado de comer a 22. ¿Cuántos perros tienen que comer aún?

s/

R/

Había 84 personas viendo al Rayo Arriacense. Llave y Marcos ve que solo quedan 34. ¿Cuántas personas se han marchado?

s/

R/

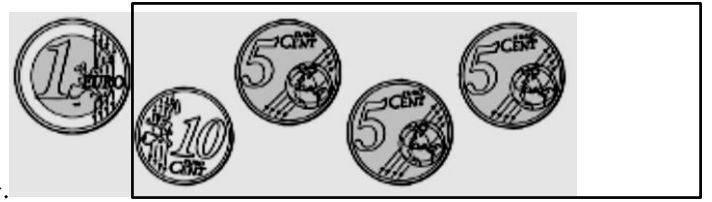

Hugo tenía 83 € ahorrados. Ha gastado 20 en un regalo para su madre. ¿Cuánto le queda en la hucha?

s/

R/

### LAS MONEDAS DE 1 Y 2 EUROS Y LAS DE CÉNTIMOS.

1.- ¿Con qué monedas pagarías? Relaciona.



2.- ¿Cuánto dinero hay en cada hucha? Escribe




€ y  céntimos

#### Problemas

Paula debía hacer 23 ejercicios. Ya ha resuelto 20. ¿Cuántos ejercicios le faltan por resolver?

s/



€ y  céntimos

R/

Pedro se ha comido 14 bombones de una caja que tenía 36. ¿Cuántos bombones quedan en la caja?

s/

R/  
 Iván es relojero. Tenía 79 relojes de pared y ha vendido 22. ¿Cuántos relojes le quedan por vender?

S/

R/  
 El sastre Gabriel tiene 34 metros de tela para hacer trajes pero aún necesita 26 metros más. ¿Cuántos metros de tela usará en los trajes?

S/

R/  
 Irene tiene que hacer 15 dibujos de animales. Si ya tiene 4 ¿cuántos dibujos le quedan por hacer?

S/

R/  
 En el autobús de Lara viajaban 15 personas, han subido 13 más y luego otras 7 ¿cuántos viajeros transporta Lara en su autobús?

S/

R/

**NÚMEROS HASTA 99.**

**Sumas, sumas llevando y restas:**

**Coloca los números y suma**

$$52 + 16 + 31$$

$$6 + 23 + 60$$

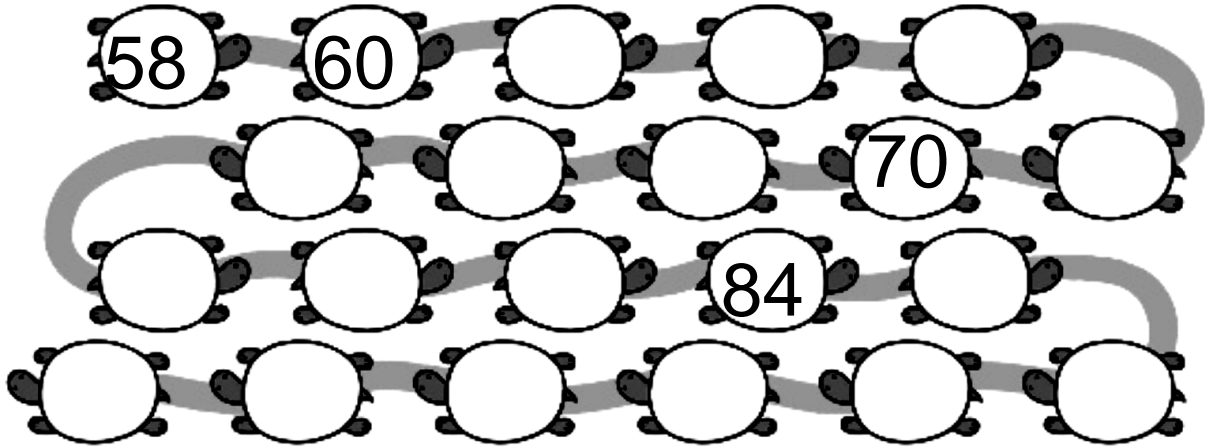
$$22 + 33 + 4$$

$$25 + 40 + 11$$

$$13 + 42 + 41$$

$$36 + 43 + 20$$


SUMA 2



Calcula el valor de las monedas de cada cofre, colorea según la clave y contesta

**De rojo → 16 céntimos**          **De azul 27 → céntimos**

104



**¿Cuánto dinero hay en el cofre del loro?** Hay  céntimos.

**Problemas**

Guillermo ha ahorrado 13 € para comprar un regalo para Blanca y aún le faltan 6 €. ¿Cuánto cuesta el regalo?

s/

Daniel está haciendo una colección de cuentos. Ya tiene 71, pero aún le faltan 8 para completarla. ¿Cuántos cuentos forman la colección?

s/

R/

R/

**NÚMEROS HASTA 99.**

**Sumas, sumas llevando y restas:**  
Coloca los números y calcula.

105

$$65 + 27$$

$$48 + 19$$

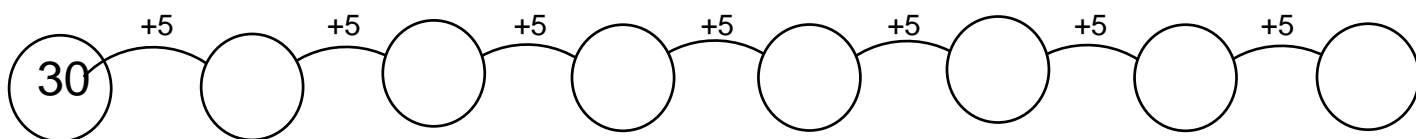
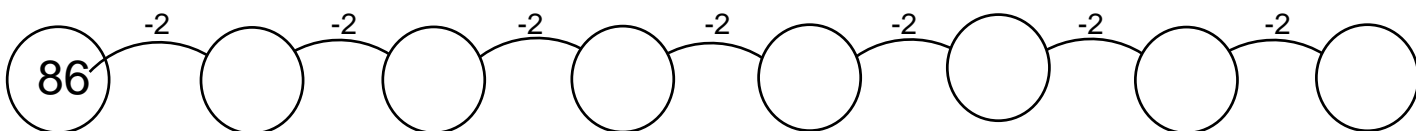
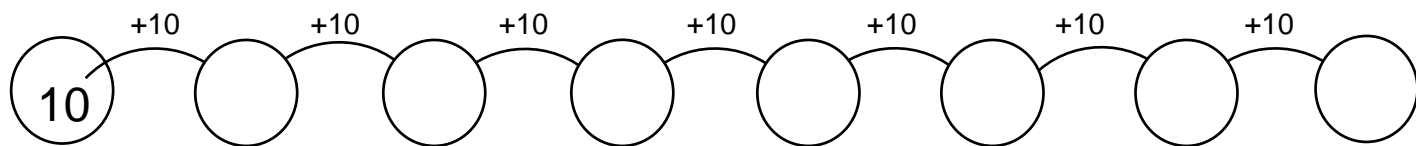
$$56 + 37$$

$$48 - 22$$

$$55 - 35$$

$$69 - 13$$

**Completa las series**



¿Cuánto dinero tiene cada niño? Completa.

A boy is shown next to several coins: one 5-cent coin, two 20-cent coins, and three 1-cent coins. Below him is a box labeled "Céntimos".

A girl is shown next to several coins: one 50-cent coin, one 2-cent coin, one 10-cent coin, and one 1-cent coin. Below her is an empty box.

Rodea.

3 € y 37 céntimos



Problemas.

En 3 cajas había 72 botellas. Sara ha tropezado y se le han roto 21.  
¿Cuántas botellas quedan?

s/



s/

Nuria cuida al elefante más pequeño del zoo. Tiene 2 depósitos con con 88 litros de agua. Si el elefante bebe 7 litros, ¿cuántos le quedarán?

R/


**NÚMEROS HASTA 99.**

Sumas, sumas llevando y restas:

Coloca los números y calcula.



R/



$$34 + 27 + 33$$

$$24 + 40 + 39$$

$$14 + 27 + 18 \quad 107$$

$$84 - 33$$

$$77 - 53$$

$$96 - 31$$

Colorea de rojo el recipiente en el que cabe más agua en cada caso.



Observa y escribe más, menos o igual según corresponda.



El pan pesa \_\_\_\_\_ que los huevos.

El atún pesa \_\_\_\_\_ que las gambas.

**Problemas.**

El pollo pesa \_\_\_\_\_ que las chuletas.

David tiene que leer un libro de 56 páginas. Ha leído 5. ¿Cuántas páginas le faltan para terminarlo?

s/

R/

En el árbol que Eva tiene en su jardín hay 13 canarios y 15 jilgueros. ¿Cuántos pájaros hay?

s/

R/

Renzo ha apuntado 28 niños y 34 niñas de Las Lomas para una carrera

solidaria. ¿Cuántas personas lleva Renzo apuntadas en total?

s/

R/

Sofía quiere preparar 68 banderines para una fiesta. Ya ha terminado 45. ¿Cuántos banderines le quedan por hacer?

s/

R/

En la zapatería de Rubén tienen 13 pares de zapatos, 29 pares de zapatillas y 5 cinturones de caballero. ¿Cuántos pares de calzado tiene?

s/



F/ \_\_\_\_\_ Nombre y apellidos \_\_\_\_\_ Nº \_\_\_\_\_

R/

Lara tiene 19 céntimos y se ha encontrado otros 53. ¿Cuántos céntimos ha juntado?

S/

R/

109

**NÚMEROS HASTA 99.**

**Sumas, sumas llevando y restas:**  
Coloca los números y calcula.

$$32 + 37 + 5$$

$$45 + 8 + 21$$

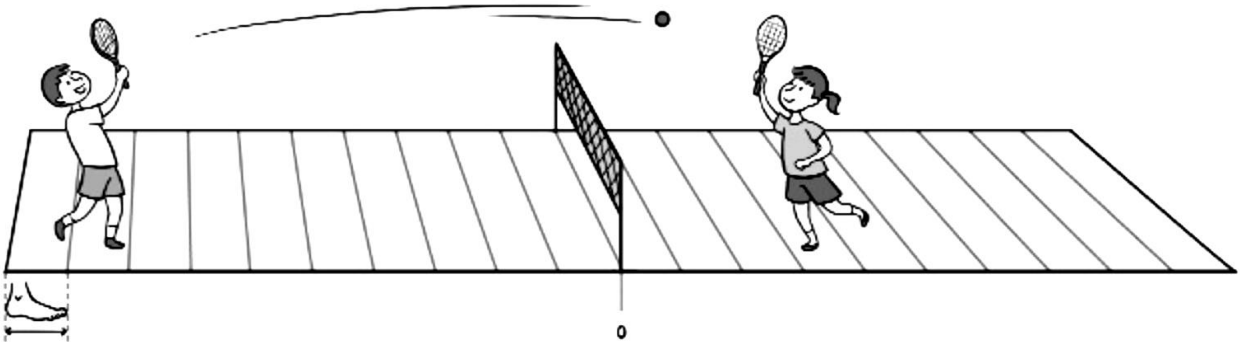
$$7 + 12 + 35$$

$$69 - 7$$

$$59 - 15$$

$$27 - 3$$

**Mide con los pies y completa.**



Carla está a  pies de la red.

Pepe está a  pies de la red.

**Problemas de sumar.**

La pandilla necesita 6 pajitas de refresco para hacer un muñeco como ese. ¿Cuántas pajitas necesitan si quieren hacer un muñeco para cada uno?



Al acabar la actividad van de excursión. Les acompañan tres amigos. ¿Cuánto tienen que abonar entre todos?



Diez niños van a copiar este dibujo para hacer unas tarjetas. Le piden a Flor ojos adhesivos para las ranas. ¿Cuántos ojos hay que comprar? SOLUCIÓN



Rebeca ha necesitado 24 piezas para construir este juguete. ¿Con 100 piezas  
RESPUESTA:


111



RESPUESTA:

Estas iguanas ponen 17 huevos cada vez. ¿Cuántas crías pueden llegar a nacer entre todas?

SOLUCIÓN



RESPUESTA:

¿Cuánto dinero necesitará Nora?

SOLUCIÓN



RESPUESTA: