

1 Marca los números 42, 57 y 54 en la recta y completa.

40 41 42 43 44 45 46 47 48 49 50 51 52 53 54 55 56 57 58 59 60

- El número 42 está entre las decenas y .
42 está más cerca de .
- 57 está entre las decenas y .
57 está más cerca de .
- 54 está entre las decenas y .
54 está más cerca de .

2 Relaciona.

Número

Decenas entre las que se encuentra

Decena más cercana

56

10 y 20

90

24

50 y 60

60

13

20 y 30

10

87

80 y 90

20

3 Colorea la decena más cercana a cada número.

1 Relaciona.

$3 + 3 + 3 + 3 + 3$

$8 + 8$

$9 + 9 + 9$

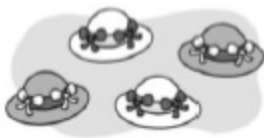
$2 + 2 + 2 + 2 + 2 + 2$

2×6

9×3

8×2

3×5

2 ¿Cuántos lazos hay? Completa.

$\square + \square + \square + \square = \square$

$\square \times \square = \square$

3 ¿Cuántas mariposas hay? Completa.

$\square + \square + \square + \square + \square = \square$

$\square \times \square = \square$

4 ¿Cuántas hay? Completa.

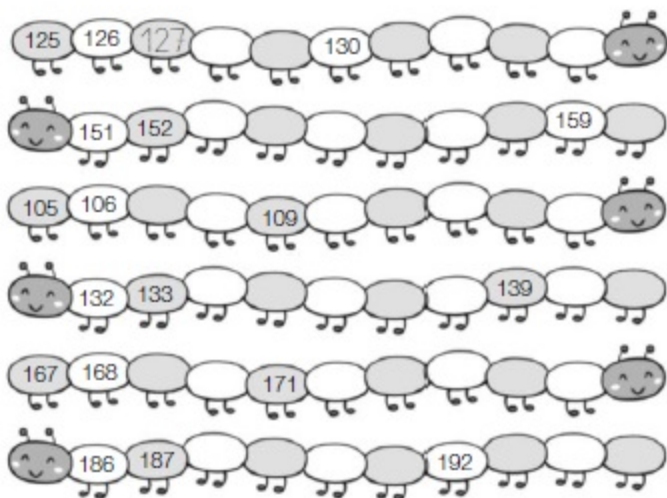
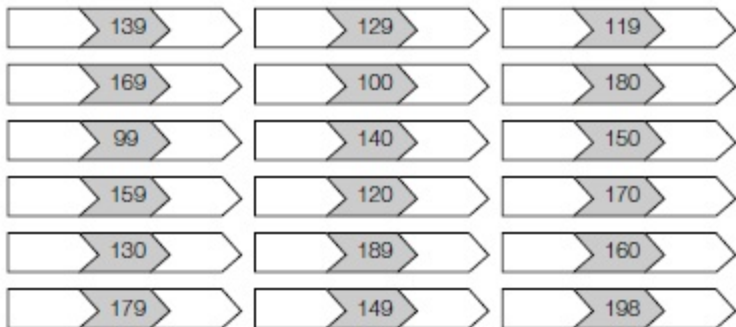
$\square + \square + \square = \square$

$\square \times \square = \square$




$\square + \square + \square + \square = \square$

$\square \times \square = \square$

1 Completa las series.**2** Escribe el número anterior y el posterior.

1 Resuelve el crucigrama. Luego, escribe cada palabra donde corresponda.



cr

cl

gr

gl

2 Copia sustituyendo el dibujo por una palabra.

El  es glotón.

1 Estima y marca con una X la respuesta correcta.



- 2 litros
 20 litros



- 5 litros
 60 litros



- 6 litros
 300 litros

2 Observa las balanzas y escribe una frase con la palabra indicada.

MÁS



¡ son más pesadas!

MENOS



¡ son menos pesadas!

3 Escribe cada nombre donde corresponda.



Pesan más de 1 kg

Pesan menos de 1 kg

1 Lee.

Por un río muy revuelto
el rey Ramiro remaba
y parecía contento.

Pero se oyó de repente:
- ¡Socorro, no sé nadar,
me aterroran los remolinos
y me lleva la corriente!

**2** Marca la respuesta correcta en cada caso.

¿Quién remaba?

¿Por dónde remaba?

¿Cómo estaba el río?

¿Qué había en el río?

Nombre _____ Fecha _____

- 1** Lee. Después, subraya de rojo las palabras con *r* y de azul las palabras con *n*.

El burrito Rufo arrastra
una carreta por la carretera.

El perro Renato corretea sin correa.

De repente, el zorro Curro
asoma el morro entre
los matorrales y el burro
y el perro huyen aterrorizados.



- 2** Marca la respuesta correcta en cada caso.

¿Qué animales aparecen en este cuento?

- Un zorro. Un gorrion. Un perro.
 Una rata. Un burro. Un abejorro.

¿Dónde sucede la historia?


- En una carretera. En un cerro.
 En una sierra. En una torre.

1 Primero, lee. Después, dibuja la escena que se explica.

El guerrero llegó de noche al castillo montado en un gigantesco dragón de color gris.

La armadura del guerrero era azul y brillante y su espada era amarilla.

El dragón tenía espinas afiladas como agujas en sus enormes alas.



1 Escribe en cada caso el nombre de la parte de la planta que corresponda.



Sujeta la planta al suelo ▶


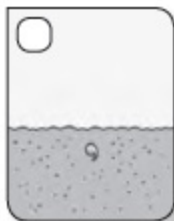
Transporta el alimento ▶

Captan la luz del sol y el aire ▶

Se transforman en frutos ▶

2 ¿Cómo nacen y crecen las plantas? Lee y numera.

1. La semilla de una planta de guisantes cae en suelo húmedo.
2. La semilla germina y de ella nace una planta.
3. Gracias al agua de la tierra, el sol y el aire, la planta crece y florece.
4. Las flores se transforman en frutos, en cuyo interior están las semillas.



3 ¿Qué fruto obtenemos de cada una de estas plantas? Escribe.

Tomatera ▶

Naranja ▶

Higuera ▶

Olivo ▶

Platanero ▶

Vid ▶

Cerezo ▶

Peral ▶

Nacemos y crecemos

Como todos los seres vivos, las personas nacemos y crecemos, y vamos cambiando a lo largo de toda nuestra vida.

Con el paso del tiempo, nuestro cuerpo crece y cambia.

Cuando somos niños, crecemos muy deprisa. Nuestra altura y nuestro peso aumentan muy rápidamente.

A partir de los quince años crecemos más despacio. Además, a partir de esa edad, los cuerpos de los niños y las niñas se diferencian cada vez más.

Cuando nos convertimos en personas adultas, nuestro cuerpo deja de crecer.

Con el paso del tiempo aumentan nuestros conocimientos y nuestra inteligencia. Y es que, a lo largo de nuestra vida, aprendemos cosas nuevas.

**1 Contesta.**

- ¿En qué época de nuestra vida crecemos más deprisa?

- ¿En qué momento comenzamos a crecer más despacio?

- ¿Cuándo deja de crecer nuestro cuerpo?

2 ¿Qué diferencia a una persona adulta de un niño? Escribe.

3 Dibuja a tu compañero o compañera y completa esta ficha sobre él o ella.

	Nombre: <input type="text"/>
	Apellidos: <input type="text"/>
	<input type="text"/>
	Fecha de nacimiento: <input type="text"/>
	Edad: <input type="text"/>
Aspecto físico: <input type="text"/>	
<input type="text"/>	
¿Cómo crees que será de mayor? <input type="text"/>	
<input type="text"/>	

4 ¿Cómo aumenta la inteligencia de una persona? Escribe.



1 Lee y resuelve.

Pablo compró 36 cromos. Su tío le regaló 53 cromos más.

¿Cuántos cromos tiene en total?



$$\begin{array}{r} \square \\ + \square \\ \hline \square \end{array}$$

► En total tiene _____

Cecilia recogió ayer 42 setas. Hoy ha recogido 25 setas más.

¿Cuántas setas ha recogido en total?



$$\begin{array}{r} \square \\ + \square \\ \hline \square \end{array}$$

► En total _____

Andrés tenía 85 aviones. Su papá le dio 13 más.

¿Cuántos aviones tiene en total?

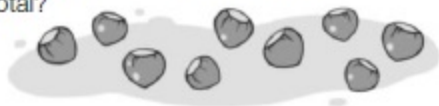


$$\begin{array}{r} \square \\ + \square \\ \hline \square \end{array}$$

► _____

Inés compró 64 avellanas. Ha encontrado 34 avellanas más.

¿Cuántas avellanas tiene en total?



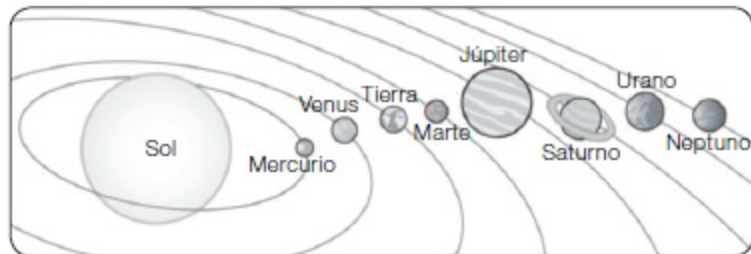
$$\begin{array}{r} \square \\ + \square \\ \hline \square \end{array}$$

► _____

1 Lee y completa con las palabras destacadas.

- Un astro que gira alrededor de un planeta es **un satélite**.
- Un astro que emite luz y calor es **una estrella**.
- Un astro que gira alrededor de una estrella es **un planeta**.

El Sol es _____, la Tierra es _____
 _____ y la Luna, _____

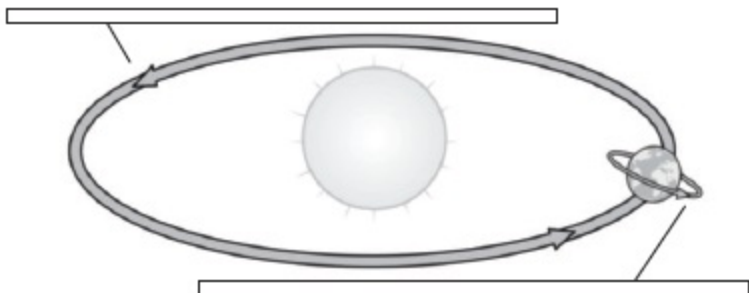
2 Observa el sistema solar y escribe el nombre de cada planeta donde corresponda.

- Es el planeta más pequeño del sistema solar ▶ _____
- Es el único planeta en el que hay seres vivos ▶ _____
- Es el planeta de mayor tamaño ▶ _____
- Este planeta está rodeado por varios anillos ▶ _____
- Es el planeta más alejado del Sol ▶ _____
- Es el penúltimo planeta del sistema solar ▶ _____
- Es el segundo planeta más cercano al Sol ▶ _____
- Entre este planeta y el Sol hay tres planetas más ▶ _____

1 Observa y escribe donde corresponda.

La Tierra gira sobre sí misma.

La Tierra gira alrededor del Sol.

**2 Piensa y une.**

24 horas

- Tiempo que tarda la Tierra en girar alrededor del Sol.

un año

- Tiempo que tarda la Tierra en girar sobre sí misma.

3 ¿Por qué existen el día y la noche? Marca.

- Porque, al desplazarse la Tierra alrededor del Sol, a veces se aleja demasiado de él.
- Porque, al girar la Tierra sobre sí misma, la parte iluminada por el Sol va cambiando.

4 Explica dónde podemos ver el Sol en estos momentos del día.

Amanecer

Mediodía
